

QUESTIONARIO DIDATTICO

Alle Radici di un mito

laboratorio di scavo archeologico e di restauro
area archeologica e museo archeologico nazionale di Paestum

COMPILATO DA _____


ISTITUTO SCOLASTICO DI _____

CLASSE _____

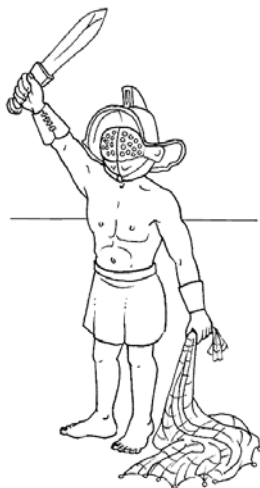
- 1) Aiutandoti con il disegno, sapresti indicare a quale divinità venne consacrata l'antica città greca di Poseidonia?



- 2) Tra i seguenti stili architettonici, sapresti mostrare quello usato dagli antichi greci per la costruzione dei tre templi di Poseidonia? Quando lo avrai individuato, cerchiato con una matita!



- 3) Aiutandoti con la figura, sapresti dire come si chiamava chi lottava negli anfiteatri? Quali armi utilizzava per difendersi e per attaccare?



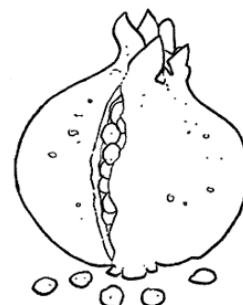
- 4) All'inizio della tua visita al Museo di Paestum hai potuto osservare alcune metope. Sapresti dire cosa sono, che funzione avevano ed in quale edificio si pensava che fossero collocate?

- 5) A quale divinità gli antichi greci consacrarono il santuario extraurbano di foce Sele?

- 6) Indica il nome dei due archeologi che individuarono i resti dell'Heraion di foce Sele.



7) Qual è il frutto simbolico con cui viene rappresentata la dea Hera? Su quale pianta cresce?



8) Tra queste varie forme di vasi, quale hai potuto ammirare al Museo Archeologico di Paestum? (indicane una o più cerchiandola con una matita)



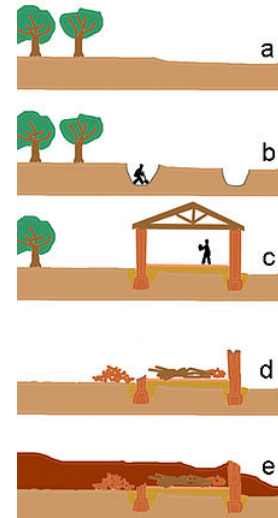
9) Cos'è raffigurato sulla lastra di copertura della famosa Tomba del Tuffatore?
Cosa stanno facendo i personaggi rappresentati sulle lastre che chiudono la tomba sui lati più lunghi?



10) Oggi hai partecipato ad un vero scavo archeologico.

In una stratigrafia lo strato più recente è

- il più basso
- il più alto
- lo strato intermedio



11) Dopo avere individuato lo strato è necessario:

- mettere in luce tutti i reperti presenti sulla superficie
- raccogliere subito tutti i reperti sulla superficie

12) Una delle attività che hai svolto oggi è stata quella del restauratore. Ricordi cosa significa restaurare?

13) Indica il nome del vaso che hai restaurato, il periodo in cui veniva realizzato e quale era la sua funzione

